



## Нумерация



### Счёт предметов. Разряды



Вспомни, что если записать числа в том порядке, в котором они называются при счёте, то получится ряд чисел: 1, 2, 3, ... . Этот ряд начинается с 1, и каждое следующее число в нём на 1 больше предыдущего.

При счёте каждые 10 единиц объединяются в десяток, 10 десятков — в сотню, а 10 сотен образуют тысячу.

- Надо сосчитать большое количество пуговиц. Например, 6 сотен, 5 десятков и 5 отдельных пуговиц. Сколько это всего пуговиц?

655

- Назови и запиши числа, которые содержат:
 

9 дес. 9 ед.	9 сот. 0 дес. 9 ед.
9 дес. 0 ед.	9 сот. 0 дес. 0 ед.
9 сот. 9 дес. 9 ед.	9 сот. 9 дес. 0 ед.
  - Какое число называют при счёте перед каждым из этих чисел и после него?
- Прочитай числа, записанные в таблице. На каком месте, считая справа налево, пишут единицы? десятки? сотни?

Сотни	Десятки	Единицы
III разряд	II разряд	I разряд
6	7	2
2	0	6

- Сколько единиц каждого разряда в числе 672? 206? 840? 400? 590?

III II I  
840

4.  $999 + 1$      $700 + 80 + 9$      $570 + 30 - 330$   
 $900 - 1$      $347 - 7 - 40$      $950 + 50 - 660$

5. (Устно.) В классе 19 человек, из них 9 мальчиков. Сколько в этом классе девочек? Составь и реши две задачи, обратные данной.

6. Мише 10 лет. Его дедушка в 6 раз старше Миши, а бабушка на 4 года моложе дедушки. Сколько лет Мишиной бабушке?  $10 \cdot 6 - 4 = 56$   
 Составь похожую задачу о своих родных.

7.  $980 - 80 - 100$      $290 + 70$      $140 \cdot 6$      $480 : 6$   
 $640 - 40 + 200$      $680 + 50$      $260 \cdot 3$      $360 : 9$

8. В книге 180 страниц. В первый день ученик прочитал 52 страницы, во второй — 28 страниц. Сколько страниц ему осталось прочитать? Реши задачу разными способами.



Слагаемое	180	<del>360</del>	40	0	90
Слагаемое	230	70	<del>80</del>	150	0
Сумма	<del>410</del>	430	120	150	90

Уменьшаемое	270	<del>520</del>	40	75	40
Вычитаемое	30	500	15	75	0
Разность	<del>240</del>	20	25	0	40

10. Кто тяжелее: мишка или белочка — и на сколько граммов?



РЕБУСЫ



396  $\leftarrow$  936    529  $\leftarrow$  592    748  $\leftarrow$  848